

20  
24

اصحاب الأرض

نسبة خاصة انضمامنا مع القضية الفلسطينية

فلسطين قضيتي

# المتفوق

في الدراسات الاجتماعية

إعداد  
مستر حاتم عاطف  
01066015065

الصف الرابع الابتدائي  
الفصل الدراسي الثاني

المراجعة  
النهائية



جروب المتفوق  
على فيس بوك

قناة المتفوق  
على يوتيوب

جروب المتفوق  
على تيليجرام



للتبرع بإغاثة أهالي  
غزة اتصل على  
15322  
الهلال الأحمر المصري

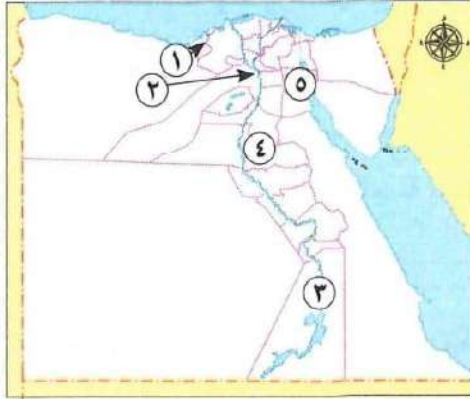


## بنك أسئلة المراجعة النهائية



### أجب عن الخرائط التالية

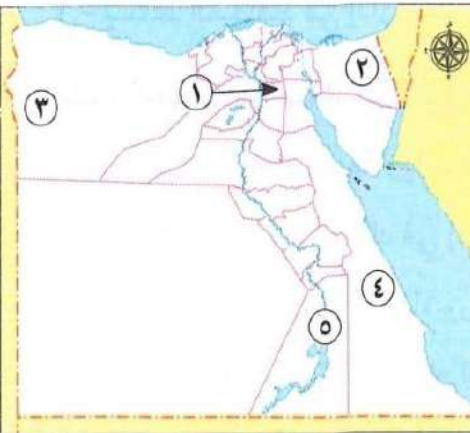
### السؤال الأول



#### (أ) لاحظ الخريطة، ثم أجب

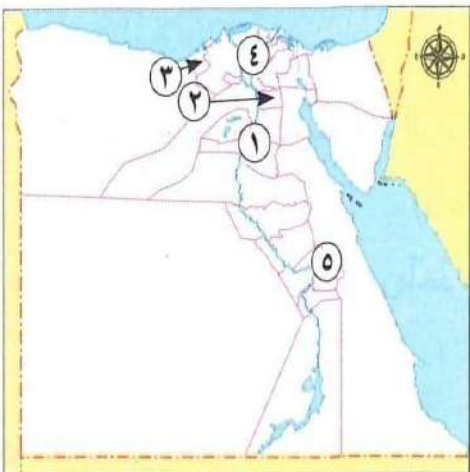
1. يشير رقم (1) إلى محافظة حضرية هي.....
2. صواب أم خطأ يشير رقم (2) إلى أقل محافظات مصر سكانا ( ) .
3. محافظة يوجد بها متحف النوبة هي.....
4. أعلى محافظات مصر أمية هي.....
5. صوب: يشتهر سكان المنطقة رقم (5) بالعزف على آلة الجيتار ( )

#### (ب) لاحظ الخريطة، ثم أجب



1. صواب أم خطأ يشير رقم (1) إلى محافظة ريفية ( )
2. تشتهر المحافظة رقم (2) بسباقات.....
3. لهجة سكان الواحة رقم (3) مشتقة من اللغة.....
4. صوب: يشير رقم (4) إلى المحافظة الأقل في التعليم.....
5. منطقة النوبة بمحافظة.....

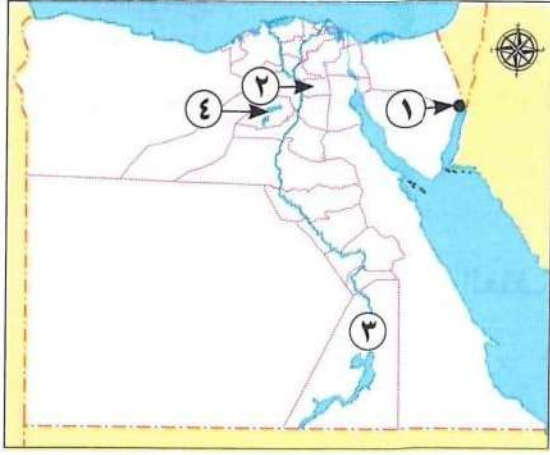
#### (ج) لاحظ الخريطة، ثم أجب



1. اختر: يشير رقم (1) لمحافظة.....
- (البحر الأحمر - المنيا - بني سويف - القاهرة)
2. أعلى محافظات الجمهورية سكانا هي.....
3. صواب أم خطأ تتميز المحافظة رقم (3) بانخفاض مستوى المعيشة وقلة الخدمات ( )
4. يشير رقم (4) لمنطقة يشتهر سكانها بالعمل في حرفة.....
5. محافظة تضم متحف السيرة الهلالية هي.....



(أ) لاحظ الخريطة، ثم أجب:



١. اختر: يشير رقم (١) إلى منطقة تراث ثقافي في مدينة.....

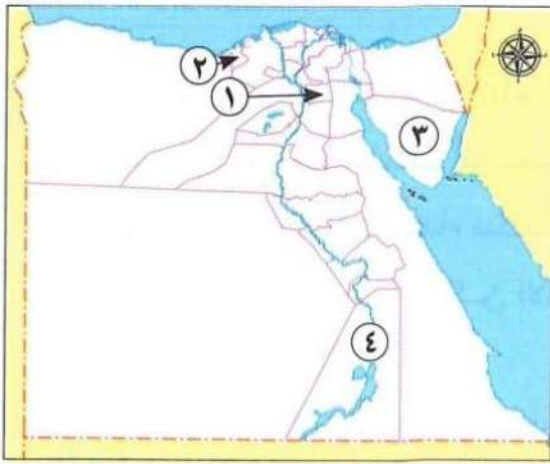
(طابا - العريش - رفح - السويس)

٢. صوب موقع تراث طبيعي في المحافظة رقم (٢) هو محمية رأس محمد.....

٣. صواب أم خطأ يشير رقم (٣) إلى محافظة بها مسجد أحمد بن طولون.

٤. صواب أم خطأ يشير رقم (١) إلى منطقة بها بقايا عظام حيتان من ملايين السنين ( )

(ب) لاحظ الخريطة، ثم أجب:



١. إحدى أكبر المدن التراثية بالعالم هي مدينة.....

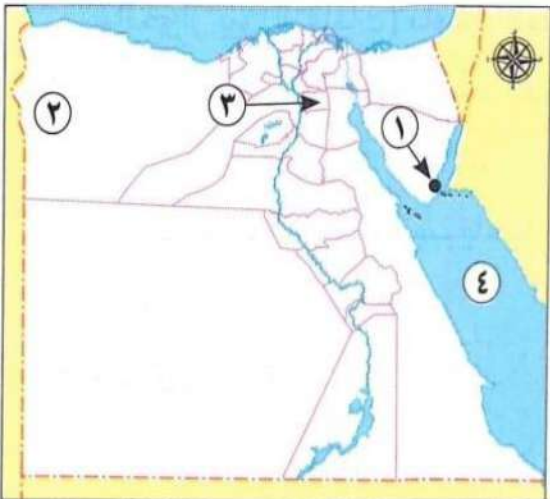
٢. اختر يشير رقم (٢) لمحافظة يوجد بها.....

(وادي الحيتان - أبو مينا - معبد الدير البحري - قلعة صلاح الدين)

٣. محافظة بها دير.....

٤. منطقة تعرضت آثارها لخطر الغرق بعد بناء.

(ج) لاحظ الخريطة، ثم أجب:



١. صواب أم خطأ يشير رقم (١) المدينة اختارتها

اليونسكو كأفضل مدينة سلام في العالم ( )

٢. فسر : انتشار السياحة العلاجية في المنطقة رقم (٢)

٣. اختر : يشير رقم (٣) لمدينة يتم تطوير الأماكن التاريخية فيها، منها.

(أهرامات الجيزة - منطقة الأزهر - وادي الحيتان - الغابة المتحجرة)

٤. يشير رقم (٤) إلى البحر.....



## السؤال الثاني أكمل العبارات الآتية بما يناسبها

١. تقوم مصر بإجراء التعداد السكاني كل ..... سنوات.
٢. يهدف التعداد السكاني إلى تحديد ما يحتاجه السكان من.....
٣. أقل المحافظات المصرية سكانا توجد في شبه.....
٤. ترتب على انتشار المدارس بالمحافظات الحضرية انخفاض نسبة.....
٥. يسكن أهل الريف في القرى، ويعملون بحرفة.....
٦. نقص فرص العمل بين سكان الريف أدى إلى انخفاض.....
٧. أحد ملوك مصر القديمة تم في عهده عدا للجنود هو.....
٨. لهجة سكان واحة سيوة مشتقة من اللغة.....
٩. استخدم الجيش المصري اللغة النوبية كشفرة في أثناء حرب.....
١٠. أحد الفنون الشعبية بمدن القناة رقصة.....
١١. إقامة حفلات السامر من عادات وتقاليد سكان.....
١٢. يحضر العديد من الوفود العربية إلى سيناء للمشاركة في رياضة.....
١٣. أعلى محافظات مصر من حيث الأمية.....
١٤. اتجهت الدولة لإنشاء الهيئة العامة لتعليم الكبار القضاء على.....
١٥. أقدم الجامعات في التاريخ البشري هي جامعة.....
١٦. تتمثل السلطة التشريعية في مجلسي..... و.....
١٧. تتمثل السلطة القضائية في.....
١٨. تمثيل مصر محليا ودوليا أحد مهام.....
١٩. الإشراف على تنفيذ الخطة العامة للدولة من مهام رئيس الجمهورية و.....
٢٠. رؤساء الإدارات قديما يمثلهم حاليا.....
٢١. الإشراف على تنفيذ مشروعات التنمية في محافظة الجيزة من مهام.....
٢٢. يتم اختيار النسبة الأكبر من أعضاء مجلس النواب عن طريق.....
٢٣. يتم اختيار النسبة الأكبر من أعضاء مجلس النواب عن طريق.....
٢٤. إعداد الموازنة العامة للدولة أحد مهام.....
٢٥. حماية التراث الثقافي والطبيعي في العالم أحد جهود منظمة.....
٢٦. الفنون الشعبية لسكان مدن القناة تعد تراثا.....
٢٧. أنشأ القائد صلاح الدين الأيوبي قلعة لتأمين البحر الأحمر في مدينة.....
٢٨. تقع مدينة صنعاء القديمة في دولة.....
٢٩. لزيارة محمية الغابة المتحجرة، عليك التوجه إلى محافظة.....
٣٠. معبد إيزيس من آثار النوبة الواقعة في جزيرة.....
٣١. تم إنقاذ معبد أبو سمبل من الغرق بعد بناء.....
٣٢. تقع منطقة أبو ميناء في الإسكندرية بجوار مدينة.....



33. أمر الملك خفرع بنحت تمثال .....
34. اختارت اليونسكو أفضل مدينة سلام في العالم وهي مدينة .....
35. بني مسجد عمرو بن العاص في عهد الخليفة .....
36. تم تصميم برج القاهرة على شكل زهرة. ....
37. يقع مجمع الأديان في حي .....
38. زيارتك لشارع المعز تعد سياحة .....
39. يتجه السياح للعلاج بالرمال الساخنة في واحة. ....
40. تجد العديد من الكتب والمؤلفات النادرة في مكتبة .....
41. تطل مدينة مرسى مطروح على شواطئ البحر .....
42. حضور مؤتمر النقل الذكي للشرق الأوسط وأفريقيا يعد أحد أنواع سياحة .....
43. استضافت مصر مؤتمر المناخ (COP27) في مدينة .....
44. تنتشر في مدينة الغردقة على البحر الأحمر السياحة. ....
45. تنتشر في مدينة الغردقة على البحر الأحمر السياحة. ....
46. تعد مكتبة الإسكندرية من أماكن السياحة .....
47. يقع سور مجرى العيون في محافظة. ....
48. قامت الدولة بتطوير مسار العائلة المقدسة في حي. ....
49. يقع متحف هيئة السكك الحديدية في محافظة .....
50. أرسلت الملكة حتشبسوت رحلات تجارية إلى بلاد .....
51. عرفت مصر قديما العربات الحربية بعد تعرضها لغزو. ....
52. أنشئ أول خط سكة حديد في مصر ليربط بين القاهرة و .....
53. شركة مصر للطيران إحدى شركات بنك. ....
54. شاركت مصر في مؤتمر النقل المستدام الذي عقد بالعاصمة الصينية. ....
55. يقع ميناء دمياط على البحر. ....
56. يقع مطار برج العرب في محافظة .....
57. يربط القطار الكهربائي السريع بين العين السخنة والعلمين الجديدة مرورا بـ .....
58. الدائرة الصفراء في إشارة المرور هي من علامات المرور. ....
59. أشهر المراكب في مصر قديما يعود للملك .....
60. السكك الحديدية والطرق المرصوفة من أنواع النقل .....
61. الشاحنات من وسائل النقل المستخدمة لنقل .....
62. تخطي المرتفعات والبحار من مميزات النقل .....
63. أول سيارة دخلت مصر كانت تعمل بطاقة .....
64. أول من حاول الطيران باستخدام جناحين هو. ....
65. يربط مترو الأنفاق بين شبرا الخيمة والقاهرة و .....
66. التزام السائق في مساره المحدد من قواعد. ....
67. تعد العلامة المقابلة من علامات المرور .....



٦٨. أرخص وسائل النقل هو النقل.....

٦٩. أحد آداب استخدام وسائل النقل إفساح الطريق للسيارة.....

٧. بدأت العصور التاريخية عندما عرف المصري القديم.....

## أكتب كلمة (صواب) أو (خطأ)

## السؤال الثالث

١. وزارة التخطيط هي الجهة المسؤولة عن إجراء التعداد السكاني كل ١٠ سنوات. ( )
٢. يختلف توزيع السكان بين محافظات مصر ( )
٣. سكان الريف يمثلون غالبية السكان في مصر. ( )
٤. كثرة الإنجاب والزواج المبكر من المشكلات التي تنتشر بين سكان الريف. ( )
٥. الحرفة الرئيسية لسكان الصحاري هي الزراعة. ( )
٦. بدأت مصر في عمل أول تعداد لسكانها في العصر الحديث. ( )
٧. أنشأت منظمة اليونسف متحف النوبة في أسوان لعرض تاريخ الحضارة النوبية. ( )
٨. تشتهر مدن القناة بإقامة المهرجانات، منها مهرجان الإسماعيلية الدولي للفنون الشعبية ( )
٩. أنشأت الدولة متحف السيرة الهلالية في أسوان للحفاظ على هذا التراث. ( )
١٠. عندما تريد تعلم اللغة النوبية فعليك بالذهاب إلى جنوب مصر. ( )
١١. ينتشر فن التحطيب بين سكان محافظات الدلتا. ( )
١٢. يستمتع الزائر في محافظات الصعيد بالعزف على الربابة. ( )
١٣. مصر هي الدولة الوحيدة في العالم التي تعاني من مشكلات البطالة والفقر. ( )
١٤. الأمية الهجائية هي عدم قدرة الفرد على استخدام التكنولوجيا للوصول للمعلومات ( )
١٥. تؤثر الأمية على خطط التنمية المستدامة في الدولة. ( )
١٦. ترتفع معدلات الأمية بين الإناث عن الذكور. ( )
١٧. يتولى المحافظ منصبه عن طريق التصويت له في انتخابات عامة. ( )
١٨. تقوم السلطة القضائية في مصر بمهمة من القوانين. ( )
١٩. مجلس الشيوخ هو المسئول عن سن التشريعات والقوانين ( )
٢٠. حاكم الإقليم قديما هو المسئول عن عقد المعاهدات بين مصر وجيرانها. ( )
٢١. تساهم منظمة اليونسف في الحفاظ على مواقع التراث العالمي. ( )
٢٢. تضم محمية رأس محمد مجموعة من الأشجار المتحجرة على شكل قطع صخرية أسطوانية ( )
٢٣. يعد الجهاز المركزي للتعبئة العامة والإحصاء هيئة تابعة لرئاسة الجمهورية مباشرة ( )
٢٤. تم بناء قلعة صلاح الدين الأيوبي في طابا لتكون مقرا للحكم. ( )
٢٥. تعد عادات وتقاليد الشعوب أحد أمثلة التراث الطبيعي. ( )
٢٦. منطقة وادي الحيتان أحد نماذج التراث الطبيعي في مصر. ( )
٢٧. تقع قلعة صلاح الدين الأيوبي بطابا في جزيرة تيران ( )
٢٨. تساعد السياحة على زيادة الدخل القومي. ( )



29. يقع دير سانت كاترين في محافظة الأقصر.

30. تضم منطقة وادي الحيتان هياكل وعظام وحفريات أسماك عاشت من ملايين السنين ( )

31. يرجع تاريخ منطقة أبو ميناء بالإسكندرية إلى الحضارة المصرية القديمة. ( )

32. يمكن إدراج بعض المواقع التي تمثل نموذجا للإبداع البشري على قائمة التراث العالمي ( )

33. يُعد معبد إيزيس من مناطق التراث الطبيعي. ( )

34. يمكننا رؤية الصقور والشعالب والغزلان في وادي الحيتان ( )

35. اكتفت اليونان بتسجيل موقع واحد في مصر على قائمة التراث العالمي. ( )

36. بنى المصريون القدماء الأهرامات شرق نهر النيل لتكون بعيدة عن الفيضان ( )

37. شيدت الكنيسة المعلقة على الأبراج الجنوبية لحصن بابليون ( )

38. بنى المصريون القدماء الأهرامات لاعتقادهم في البعث والخلود. ( )

39. يُعد المعبد اليهودي من المناطق الأثرية في منطقة مجمع الأديان. ( )

40. ثم نحت تمثال أبو الهول بجسم أسد ورأس إنسان. ( )

41. تعمل مصر على تنمية السياحة من خلال تطوير وسائل النقل والمواصلات. ( )

42. زيارتك لمعبد إيزيس تعد سياحة علاجية. ( )

43. عند زيارتك الشارع المعز، فأنت تقوم بسياحة مؤتمرات ( )

44. رحلات السفاري في الصحاري المصرية أحد أمثلة السياحة الترفيهية. ( )

45. يجب اتباع قواعد النظافة والأمن عند زيارة المناطق الأثرية. ( )

46. زيارتك لمكتبة الإسكندرية تعد سياحة ثقافية. ( )

47. يشمل مشروع تطوير مدينة القاهرة التاريخية ترميم منطقة «أبو ميناء». ( )

48. يُعد تطوير سور مجرى العيون أحد جهود الدولة للحفاظ على المواقع الأثرية. ( )

49. يمكن كتابة اسمك على جدار معبد الكرنك لتخليد ذكرى زيارتك ( )

50. يهدف تطوير منطقة الأهرامات إلى تحويلها لمتحف مفتوح ( )

51. استخدم المصريون القدماء الحصان والحمار في التنقل وحمل الأشياء. ( )

52. استخدم المصري القديم العربات الحربية في السفر والصيد. ( )

53. أول سيارة دخلت مصر كانت في عهد الخديو توفيق. ( )

54. تعد السكك الحديدية المصرية الأولى في الشرق الأوسط والعالم. ( )

55. حاول عباس بن فرناس محاكاة حركة الطيور. ( )

56. نجح الأخوان رايت في الطيران الحقيقي عام ١٩٠٣م. ( )

57. شركة مصر للطيران هي أول شركة طيران على مستوى الشرق الأوسط. ( )

58. يساهم العلم في تطوير وسائل النقل المختلفة. ( )

59. تهتم الدولة بتطوير وتحسين كل أنواع وسائل النقل. ( )

60. النقل البري هو أرخص أنواع النقل. ( )

61. الأتوبيسات النهرية من أهم وسائل النقل البري. ( )

62. تحتفل باليوم العالمي للمرور في الرابع من شهر مايو. ( )

63. يجب أن يلتزم سائق السيارة بالسرعة المحددة على الطريق. ( )



- ( ) 64. يجوز استخدام الهاتف المحمول في أثناء قيادة السيارة.
- ( ) 65. يجب الامتناع عن تناول الطعام أو الشراب في أثناء قيادة السيارة.
- ( ) 66. علامة الاتجاه الإجباري للمشاة هي علامة مرور تحذيرية.
- ( ) 67. يجب أن يجلس الأطفال في المقاعد الأمامية للسيارة.
- ( ) 68. إلقاء الحجارة على القطارات في أثناء سيرها يسبب أضراراً للقطار والركاب.
- ( ) 69. أرسل الملك سنfro رحلات تجارية إلى بلاد فينيقيا.
- ( ) 70. تعد السفن أول وسيلة نقل مالي عرفها المصري القديم.
- ( ) 71. نقل مركب الملك خوفو إلى المتحف القومي للحضارة المصرية للحفاظ على قيمته الأثرية. ( )
- ( ) 72. تعد مصر أولى الدول العربية في إنشاء مترو الأنفاق.
- ( ) 73. إنشاء المزيد من الكباري يخفف الضغط المروري على الطرق.
- ( ) 74. يُفضّل استخدام النقل الجوي إذا كانت البضائع كبيرة الحجم وثقيلة الوزن.
- ( ) 75. تهتم الدولة بالنقل المستدام لتوفير استخدام الوقود.
- ( ) 76. تهدف الدولة من مشروع الموتوريل المعلق ربط المدن المصرية بمترو الأنفاق.
- ( ) 77. يجب الانتباه إلى المخاطر المحتملة عند رؤية العلامات التحذيرية.
- ( ) 78. عدم التأكد من صحة المعلومات يعد من سلبيات الإنترنت.
- ( ) 79. ساهمت شبكة الإنترنت في توفير المعلومات وفرص العمل المناسبة.

## السؤال الرابع أختَر الإجابة الصحيحة مما يلي

1. تتزايد أعداد السكان باستمرار بسبب ارتفاع عدد.....
- أ. الوفيات ب. المواليد ج. المهاجرين د. المتعلمين
2. إذا أردت زيارة محافظة حضرية، فعليك التوجه إلى.....
- أ. المنيا ب. مطروح ج. قنا د. الإسكندرية
3. لحضور عيد السياحة في واحة سيوة عليك أن تتواجد هناك في منتصف.....
- أ. أغسطس ب. سبتمبر ج. أكتوبر د. نوفمبر
4. أثرت اللغة الأمازيغية في لهجة سكان.....
- أ. سيوة ب. السويس ج. بورسعيد د. قنا
5. اليوم العالمي للنوبة أشهر المناسبات في محافظة.....
- أ. الأقصر ب. أسوان ج. سوهاج د. المنيا



٦. أنشأت الدولة في محافظة قنا متحفا للحفاظ على.....

- أ. آلة السمسرية      ب. رقصة البمبوتية      ج. السيرة الهلالية      د. اللغة النوبية

٧. تشابه سكان الصعيد في فن التحطيب مع الحضارة.....

- أ. الفارسية      ب. الرومانية      ج. المصرية القديمة      د. العراقية القديمة

٨. أي من المحافظات التالية تشتهر بعيد السياحة؟.....

- أ. الوادي الجديد      ب. جنوب سيناء      ج. مطروح      د. القاهرة

٩. إذا أردت الاستماع إلى لغة تميل إلى اللغة العربية الفصحى، فتحدث مع أهل.....

- أ. الوادي      ب. الدلتا      ج. سيناء      د. سيوة

١٠. سباق الهجن هي رياضة تراثية يتم فيها التسابق ب.....

- أ. الخيول      ب. الإبل      ج. الحمير      د. البقر

١١. مواطن يجهل استخدام الإنترنت، إذا فهو يعاني من الأمية.....

- أ. الهجائية      ب. المعلوماتية      ج. الاقتصادية      د. السياسية

١٢. ثالث المحافظات المصرية من حيث انخفاض نسبة الأمية هي.....

- أ. البحر الأحمر      ب. بورسعيد      ج. الوادي الجديد      د. المنيا

١٣. اخترع المصريون القدماء الكتابة على شكل صور ورسوم عُرفت بالكتابة.....

- أ. الهيروغليفية      ب. الهيروغليفية      ج. الديموطيقية      د. القبطية

١٤. يعاون المحافظ في إدارة شئون محافظته.....

- أ. مجلس النواب      ب. مجلس الشيوخ      ج. المجلس المحلي      د. المجلس العرفي

١٥. السلطة القضائية تتمثل في.....

- أ. المحاكم      ب. رئيس الجمهورية      ج. الحكومة      د. مجلس النواب

١٦. إذا أردت زيارة إحدى مناطق التراث الثقافي في طابا، فإنك تتجه لزيارة.....

- أ. محمية رأس محمد      ب. قلعة قايتباي      ج. الأهرامات      د. قلعة صلاح الدين

١٧. محمية الغابة المتحجرة أحد معالم التراث الطبيعي لمحافظة.....

- أ. جنوب سيناء      ب. القاهرة      ج. الفيوم      د. الوادي الجديد



١٨. الغرض من بناء قلعة صلاح الدين في طابا هو تأمين .....

- أ. البحر المتوسط      ب. نهر النيل      ج. بحيرة ناصر      د. البحر الأحمر

١٩. أي مما يلي يُعد أحد أمثلة التراث الثقافي في مصر ؟ .....

- أ. المحميات الطبيعية      ب. نهر النيل      ج. أهرامات الجيزة      د. واحة سيوة

٢٠. يقع دير سانت كاترين عند سفح جبل .....

- أ. علبه      ب. العوينات      ج. سيناء      د. حماطة

٢١. أي من المناطق الأثرية التالية تعد ضمن قائمة التراث العالمي لليونسكو ؟ .....

- أ. صان الحجر      ب. تل بسطة      ج. معبد أبو سمبل      د. تل العمارنة

٢٢. تقع منطقة وادي الحيتان في محافظة .....

- أ. الإسكندرية      ب. المنيا      ج. الفيوم      د. السويس

٢٣. تتعرض منطقة أبو مينا لخطر .....

- أ. ذوبان الجليد      ب. ارتفاع الحرارة      ج. زراعة الأراضي      د. تآكل التربة

٢٤. أنقذت اليونسكو آثار النوبة من الغرق بعد بناء .....

- أ. قناطر أسبوط      ب. القناطر الخيرية      ج. السد العالي      د. قناطر إسنا

٢٥. أحد أقدم الأديرة في مصر، وتم إدراجه على قائمة التراث العالمي هو دير .....

- أ. سانت كاترين      ب. أبو مينا      ج. الأنبا بيشوي      د. أبو مقار

٢٦. تم بناء برج القاهرة على شكل .....

- أ. ورق البردي      ب. زهرة اللوتس      ج. زهرة الياسمين      د. أوراق النخيل

٢٧. أحد المواقع التي تقوم الدولة بتطويرها في مدينة القاهرة التاريخية .....

- أ. منطقة الدرب الأحمر      ب. معبد أبو سمبل الكبير

- ج. دير سانت كاترين      د. محمية وادي الحيتان

٢٨. منطقة تسعى الدولة لتحويلها إلى متحف مفتوح هي .....

- أ. الدلتا      ب. الأهرامات      ج. بولاق      د. إمبابة

٢٩. تم مد أول خط سكة حديد في مصر بين القاهرة و .....

- أ. السويس      ب. الجيزة      ج. الإسكندرية      د. المنيا



٣. استخدم المصري القديم السفن في.....

- ا. اكتشاف قارات العالم الجديد  
ب. نقل الركاب  
ج. اكتشاف أعماق البحار الواسعة  
د. استخراج البترول

٣١. إحدى وسائل النقل البحري التي عرفت في العصر الحديث.....

- ا. القوارب  
ب. السفن  
ج. البواخر  
د. المراكب

٣٢. تطوير الطريق الدائري دليل على جهود الدولة في تطوير النقل.....

- ا. النهري  
ب. البحري  
ج. الجوي  
د. البري

٣٣. أي من المواني التالية يقع على البحر الأحمر ؟.....

- ا. الإسكندرية  
ب. سفاجا  
ج. العريش  
د. دمياط



٣٤. تصنف علامة المرور المقابلة على أنها من علامات المرور.....

- ا. الإرشادية  
ب. التحذيرية  
ج. الإلزامية  
د. الضوئية

٣٥. الخط الأصفر المتصل على الطريق يمثل علامة مرور.....

- ا. أرضية  
ب. إرشادية  
ج. إلزامية  
د. ضوئية

٣٦. استخدم الإنسان للتواصل في عصور ما قبل التاريخ.....

- ا. الحمام الزاجل  
ب. ورق البردي  
ج. قرع الطبول  
د. الطوابع البريدية

٣٧. بدأ استخدام العربات الحربية في مصر قديما بعد غزو.....

- ا. الهكسوس  
ب. اليونانيين  
ج. الرومان  
د. الفرس

٣٨. تستخدم وسائل النقل المستدام طاقة.....

- ا. السولار  
ب. الفحم  
ج. الكهرباء  
د. البنزين

٣٩. عند التخطيط لنزهة نيلية أنت وأسررتك فتنصح باستخدام.....

- ا. دراجة بخارية  
ب. سيارة  
ج. غواصة  
د. أتوبيس نهري

٤. يجب عليك عند عبور الطريق الالتزام ب.....

- ا. استخدام كوبري المشاة  
ب. ترك المقاعد لكبار السن  
ج. السير وسط الطريق  
د. استخدام آلة التنبيه



## صوب ماتحته خط

## السؤال الخامس

١. يزيد عدد سكان بعض المحافظات عن 8 ملايين نسمة، ومنها القاهرة والفيوم.
٢. يعمل بالصناعة والسياحة والتجارة سكان الريف.
٣. عد الأفراد وتقدير متوسط عدد الأسر عند المصريين القدماء تم في عهد رمسيس الثاني.
٤. يتحدث أهل سيوة بلهجة مشتقة من اللغة الفارسية.
٥. تريد الذهاب لمتحف السيرة الهلالية لذا عليك زيارة محافظة أسيوط.
٦. سجل المصريون القدماء صورًا للتخطيط على حائط معبد الأقصر.
٧. تأتي في المركز الثاني بين المحافظات الأقل أمية محافظة بنى سويف.
٨. انتشار الجهل والخرافات أحد نتائج مشكلة البطالة.
٩. تسعى الدولة للقضاء على الأمية الهجائية من خلال التوسع في إنشاء المستشفيات.
١٠. يتولى رئيس الجمهورية منصبه عن طريق التعيين.
١١. إصدار القرارات وفقا للقانون أحد مهام المحاكم.
١٢. يُعد سور مجرى العيون أحد أماكن التراث الثقافي لمحافظة الفيوم.
١٣. تعد المحميات الطبيعية إحدى مناطق التراث الثقافي.
١٤. إحدى أبرز المدن التراثية في العالم مدينة شرم الشيخ.
١٥. يقع تمثال أبو الهول في محافظة المنيا.
١٦. يعد حصن بابلون أحد الآثار القبطية.
١٧. نقل البضائع سريعة التلف أفضل من خلال النقل النهرى.
١٨. تشير الصورة المقابلة العلامة مرور أرضية.
١٩. علامة المرور التي تعني ممنوع الانتظار هي علامة مرور التحذير.
٢٠. أول خط هاتفي في مصر ربط بين القاهرة وأسوان.
٢١. أول محاولة للطيران قام بها الأخوان رايت.
٢٢. يستمتع الركاب بالنزهات النيلية من خلال النقل البحري.
٢٣. أنشأت الدولة مطار برج العرب في السويس.
٢٤. المقاعد الأمامية في السيارات غير مخصصة لجلوس الأمهات.



### لاحظ الصور المقابلة، ثم أجب:

١. يشير رقم (١) إلى آلة .....

يشتهر بعزفها سكان .....

٢. يشير رقم (٢) إلى آلة .....

إذا أردت الاستمتاع بعزفها فيمكنك زيارة .....



٢



١



## على أي البحار توجد الموانئ التالية؟:

- ميناء سفاجا.....
- ميناء الغردقة.....
- ميناء الإسكندرية.....
- ميناء دمياط.....

## صنف

وسائل الاتصال التالية حسب العصر الذي تنتمي إليه على الخط الزمني:

(الحمام الزاجل - الأصوات العالية - الهاتف - الدخان - البريد - شبكة الإنترنت - التلغراف - قرع الطبول - أشخاص يحملون رسائل)

عصور ما قبل التاريخ	العصور التاريخية	القرن ١٩ و ٢٠
وسائل النقل التالية حسب النوع الذي تنتمي إليه:		
(طائرة هليكوبتر - باخرة - المونوريل - الأتوبيس النهري - قطار - سيارة خاصة - المراكب - أتوبيسات)		
نقل بري	نقل مائي	نقل جوي

## السؤال السادس أكتب ماتنتير عليه العبارات التالية

عملية حصر شامل للسكان كل عشر سنوات لتحديد الخدمات التي يحتاجها السكان في الحاضر والمستقبل.	
شاشة موجودة أعلى مبنى الجهاز المركزي للتعبئة العامة والإحصاء تظهر تقديرات لعدد سكان مصر.	
الذين يسكنون المدن ويعملون بالصناعة والتجارة والسياحة والخدمات.	
الذين يسكنون القرى ويعملون بالزراعة وتربية الحيوانات.	



الذين يعيشون في الصحارى المصرية ويمارسون حرفة الرعي.

كل ما تركه لنا الأجداد من أماكن تاريخية وأثرية وفنون شعبية وصناعات حرفية وقيم وتقاليد اجتماعية.

رياضة تراثية شهيرة في شبه جزيرة سيناء. الأمية الهجائية عدم قدرة الفرد على القراءة أو الكتابة.

عدم قدرة الفرد على تشغيل الأجهزة التكنولوجية والتواصل من خلالها أو الوصول إلى المعلومات.

يوم خصصته اليونسكو بهدف تنمية الوعي الدولي بأهمية محو الأمية يوافق الثامن من سبتمبر من كل عام.

يُمثلها رئيس الجمهورية والحكومة المصرية والمحافظون.

يمثلها مجلس النواب ومجلس الشيوخ.

سلطة مستقلة تتولاها المحاكم المختلفة.

مجلس يتكون أعضاؤه من فئات المجتمع المصري، وهو المسئول عن سن القوانين في الدولة

مجلس يؤخذ برأيه في معاهدات الصلح وتعديل مواد الدستور.

المواقع الطبيعية الجميلة ذات القيمة العالمية، والتي لم يتدخل الإنسان في صناعتها أو التأثير فيها.

العودة إلى الحياة مرة أخرى بعد الموت.

عيش حياة أبدية لا موت بعدها.

تتمثل في زيارة الأماكن التاريخية والثقافية.

تتمثل في زيارة الأماكن الطبيعية الخلابة.

تتمثل في زيارة مناطق العيون الكبريتية والرمال الساخنة للعلاج والاستجمام.

تتمثل في زيارة السياح لمصر لحضور المؤتمرات أو المعارض أو المهرجانات

تهدف إلى الحفاظ على البيئة والموارد الطبيعية.

الدخل الذي تحققه الأنشطة الاقتصادية في عام واحد.

ينقسم إلى النقل النهري والنقل البحري، ويُستخدم لنقل البضائع كبيرة الحجم وثقيلة الوزن.



يشمل السكك الحديدية ووسائل النقل التي تسير على الطرق المرصوفة.

نقل سريع يتم باستخدام الطائرات، يُستخدم في نقل الركاب والبضائع سريعة التلف.

استخدام وسائل نقل صديقة للبيئة تسير باستخدام مصادر طاقة نظيفة مثل الكهرباء والطاقة الشمسية.

علامات توضح معالم الطريق للسائق.

خطوط مرسومة على الأرض توضح مسار تحرك السيارة على الطريق.

تشير إلى الاتجاه الإلزامي الذي يجب أن تسير فيه السيارات أو المشاة.

تنقسم إلى علامات دائرية لتنظيم حركة مرور السيارات، وعلامات على شكل إنسان لتنظيم عبور المشاة.

علامات تحذر من المخاطر المحتملة.

تشير إلى السلوكيات التي يجب تجنبها في أثناء القيادة.

عصور ما قبل معرفة المصري القديم للكتابة.

العصور التي بدأت بمعرفة المصري القديم للكتابة.

## السؤال السابع

### أذكر عملاً تاريخياً لكل من

أمنحيب الثالث

الملك سنفرو

الملك خوفو

الملكة حتشبسوت  
الخديو توفيق

عباس بن فرناس

الأخوان رايت



## بم تفسر

## السؤال الثامن

١. أهمية إجراء التعداد السكاني

٢. تزايد أعداد السكان باستمرار

٣. محافظة جنوب سيناء أقل محافظات مصر

٤. تعد القاهرة أعلى محافظات الجمهورية سكانا

٥. انخفاض نسبة الأمية بين سكان الحضر.

٦. ظهور العشوائيات في المحافظات الحضرية.

٧. متوسط عدد أفراد الأسرة في الريف أعلى من الحضر.

٨. انخفاض مستوى المعيشة لسكان الريف

٩. الاحتفال بعيد السياحة في واحة سيوة

١٠. يعتبر التراث النوبي جزءا من الحضارة المصرية

١١. كان للغة النوبية دور مهم في حرب أكتوبر ١٩٧٣م.

١٢. أنشأت منظمة اليونسكو متحف النوبة في أسوان

١٣. أهمية متحف السيرة الهلالية

١٤. أهمية سباقات الهجن

١٥. انتشار الأمية في مصر

١٦. أهمية منصب رئيس الجمهورية

١٧. أهمية مجلس الشيوخ



18. أهمية الحكومة في نظام الحكم المصري

19. أهمية السلطة القضائية

2. أهمية منصب المحافظ

21. أهمية المجلس المحلي

22. تحتفل منظمة اليونسكو بيوم التراث العالمي

23. أهمية قلعة صلاح الدين بطابا

24. أهمية محمية الغابة المتحجرة

25. أهمية إدراج المواقع الأثرية والسياحية على قائمة التراث العالمي لليونسكو

26. اختيار مدينة القاهرة التاريخية ضمن قائمة التراث العالمي لليونسكو

27. تصنف اليونسكو منطقة أبو ميناء منطقة مهددة بالخطر

28. تعد منطقة وادي الحيتان موقع تراث طبيعيا عالميا

29. بنى المصريون القدماء الأهرامات على هضبة غرب النيل

3. نحت تمثال أبو الهول على هيئة جسم أسد ورأس إنسان

31. أهمية المتحف القومي للحضارة

32. أهمية السياحة

33. ضرورة تجنب استخدام ضوء الكاميرا (فلاش) بجانب الآثار

34. مد السكك الحديدية عبر محافظات مصر

35. تطورت صناعة السيارات عبر الزمن

36. شهرة مركب الملك خوفو



37. أهمية وسائل النقل

38. أهمية مشروع مترو الأنفاق

39. اهتمام مصر بإنشاء الكباري والمحاور

4. اهتمام الدولة المصرية بالنقل المستدام

41. إنشاء مشروع الموتوريل المعلق

42. أهمية القطار الكهربائي السريع

43. أهمية الالتزام بقواعد المرور

44. وضعت الدولة كاميرات على الطرق

45. استخدام الحمام الزاجل لإرسال الرسائل في العصور التاريخية.

## السؤال التاسع ما النتائج المترتبة علي

1. اهتمام منظمة اليونسكو بآثار النوبة

2. اعتقاد المصريين القدماء في البعث والخلود

3. الثورة الصناعية بالنسبة لوسائل النقل

4. قيام الدولة بتطوير الموانئ البحرية

5. الالتزام باتباع العلامات المرورية

6. إهدار كثير من الوقت على شبكات التواصل الاجتماعي

7. إنشاء الدولة موقع بوابة مصر الرقمية

8. النقل المائي أرخص أنواع النقل

## السؤال الأول



## دليل علي صحة العبارات التالية

## السؤال العاشر

١. تقوم منظمة اليونسكو بدور مهم في الحفاظ على التراث العالمي

٢. تعدد أنواع السياحة على أرض مصر

٣. تهتم مصر بسياحة المؤتمرات والمهرجانات

٤. تقوم مصر بجهود عديدة لتنمية السياحة

٥. تبذل مصر جهودًا عديدة للحفاظ على المناطق الأثرية والسياحية

٦. تطورت وسائل النقل المائي عند المصريين القدماء

٧. تعددت محاولات الإنسان للتنقل عبر الجو

٨. قامت الدولة بالعديد من الجهود لدعم النقل المستدام.

٩. تنوع وسائل النقل في مصر

١٠. مرت وسائل الاتصال بعدة مراحل خلال العصور التاريخية

١١. لعب تطور وسائل الاتصال دورًا في تقليل البطالة.

١٢. توجد أضرار متنوعة لشبكة الإنترنت رغم فوائدها المتنوعة.

## ما العلاقة بين

## السؤال الحادي عشر

١. الفيضان وموقع بناء الأهرامات وأبو الهول

٢. السياحة والبطالة

٣. بنك مصر والنقل الجوي

٤. شبكة الإنترنت والسياحة

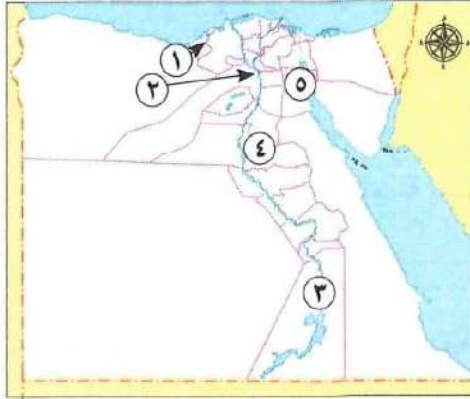


## حل بنك أسئلة المراجعة النهائية



## أجب عن الخرائط التالية

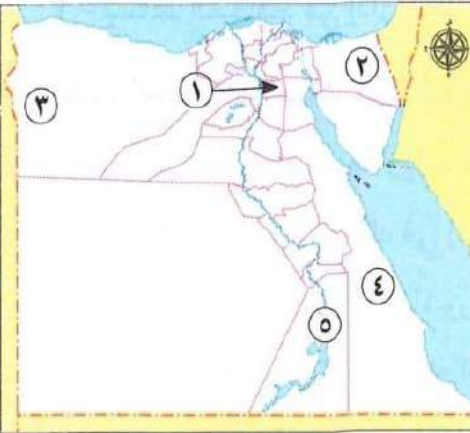
## السؤال الأول



## (أ) لاحظ الخريطة، ثم أجب

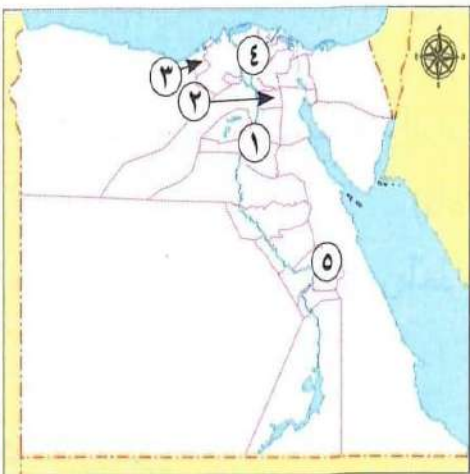
1. يشير رقم (1) إلى محافظة حضرية هي **الاسكندرية**
2. صواب أم خطأ يشير رقم (2) إلى أقل محافظات مصر سكانا (**خطأ**).
3. محافظة يوجد بها متحف النوبة هي **أسوان**.
4. أعلى محافظات مصر أمية هي **المنيا**
5. صوب: يشتهر سكان المنطقة رقم (5) بالعرزف على آلة **الجيتار (السسمية)**

## (ب) لاحظ الخريطة، ثم أجب



1. صواب أم خطأ يشير رقم (1) إلى محافظة ريفية (**خطأ**)
2. تشتهر المحافظة رقم (2) بسباقات **الهنج**
3. لهجة سكان الواحة رقم (3) مشتقة من اللغة **الامازيغية**
4. صوب: يشير رقم (4) إلى المحافظة الأقل في التعليم (**الامية**)
5. منطقة النوبة بمحافظة **أسوان**

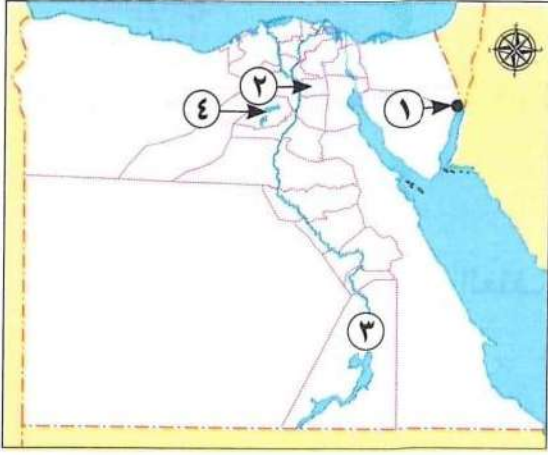
## (ج) لاحظ الخريطة، ثم أجب



1. اختر: يشير رقم (1) لمحافظة .....
- (البحر الأحمر - المنيا - **بنى سويف** - القاهرة)
2. أعلى محافظات الجمهورية سكانا هي **القاهرة**
3. صواب أم خطأ تتميز المحافظة رقم (3) بانخفاض مستوى المعيشة وقلة الخدمات (**خطأ**)
4. يشير رقم (4) لمنطقة يشتهر سكانها بالعمل في حرفة **الزراعة**
5. محافظة تضم متحف السيرة الهلالية هي **قنا**

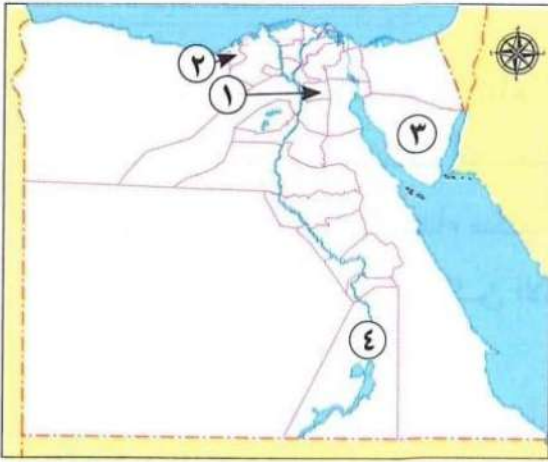


(أ) لاحظ الخريطة، ثم أجب:



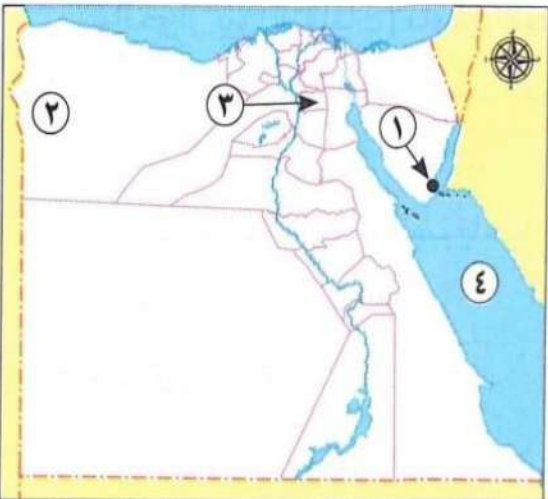
1. اختر: يشير رقم (١) إلى منطقة تراث ثقافي في مدينة.....  
(طابا - العريش - رفح - السويس)
2. صوب موقع تراث طبيعي في المحافظة رقم (٢) هو محمية رأس محمد (الغابات المتحجرة)
3. صواب أم خطأ يشير رقم (٣) إلى محافظة بها مسجد أحمد بن طولون. (خطأ)
4. صواب أم خطأ يشير رقم (٤) إلى منطقة بها بقايا عظام حيتان من ملايين السنين (صواب)

(ب) لاحظ الخريطة، ثم أجب:



1. إحدى أكبر المدن التراثية بالعالم هي مدينة القاهرة
2. اختر يشير رقم (٢) لمحافظة يوجد بها.....  
a. (وادي الحيتان - أبو مينا - معبد الدير البحري - قلعة صلاح الدين)
3. محافظة بها دير سانت كاترين
4. منطقة تعرضت آثارها لخطر الغرق بعد بناء السد العالي

(ج) لاحظ الخريطة، ثم أجب:



1. صواب أم خطأ يشير رقم (١) المدينة اختارتها اليونسكو كأفضل مدينة سلام في العالم (صواب)
2. فسر: انتشار السياحة العلاجية في المنطقة رقم (٢) لوجود العيون الكبريتية والمياه الساخنة
3. اختر: يشير رقم (٣) لمدينة يتم تطوير الأماكن التاريخية فيها، منها.....  
(أهرامات الجيزة - منطقة الأزهر - وادي الحيتان - الغابة المتحجرة)
4. يشير رقم (٤) إلى البحر الأحمر



## السؤال الثاني أكمل العبارات الآتية بما يناسبها

1. تقوم مصر بإجراء التعداد السكاني كل عشر سنوات.
2. يهدف التعداد السكاني إلى تحديد ما يحتاجه السكان من الخدمات.
3. أقل المحافظات المصرية سكانا توجد في شبه جزيرة سيناء.
4. ترتب على انتشار المدارس بالمحافظات الحضرية انخفاض نسبة الامية.
5. يسكن أهل الريف في القرى، ويعملون بحرفة الزراعة.
6. نقص فرص العمل بين سكان الريف أدى إلى انخفاض مستوى المعيشة.
7. أحد ملوك مصر القديمة تم في عهده عدا للجندود هو أمنحتب الثالث.
8. لهجة سكان واحة سيوة مشتقة من اللغة الامازيغية.
9. استخدم الجيش المصري اللغة النوبية كشفرة في أثناء حرب أكتوبر.
10. أحد الفنون الشعبية بمدن القناة رقصة البمبوطة.
11. إقامة حفلات السامر من عادات وتقاليد سكان سيناء.
12. يحضر العديد من الوفود العربية إلى سيناء للمشاركة في رياضة سباق الهجن.
13. أعلى محافظات مصر من حيث الأمية المنيا.
14. اتجهت الدولة لإنشاء الهيئة العامة لتعليم الكبار للقضاء على الامية الهجائية.
15. أقدم الجامعات في التاريخ البشري هي جامعة أون.
16. تتمثل السلطة التشريعية في مجلسي النواب والشيوخ.
17. تتمثل السلطة القضائية في المحاكم المتنوعة.
18. تمثل مصر محليا ودوليا أحد مهام رئيس الجمهورية.
19. الإشراف على تنفيذ الخطة العامة للدولة من مهام رئيس الجمهورية و الحكومة.
20. رؤساء الإدارات قديما يمثلهم حاليا الوزراء.
21. الإشراف على تنفيذ مشروعات التنمية في محافظة الجيزة من مهام المحافظ.
22. يتم اختيار النسبة الأكبر من أعضاء مجلس النواب عن طريق الانتخابات العامة.
23. إعداد الموازنة العامة للدولة أحد مهام الحكومة.
24. حماية التراث الثقافي والطبيعي في العالم أحد جهود منظمة اليونسكو.
25. الفنون الشعبية لسكان مدن القناة تعد تراثا ثقافيا.
26. أنشأ القائد صلاح الدين الأيوبي قلعه لتأمين البحر الأحمر في مدينة طابا.
27. تقع مدينة صنعاء القديمة في دولة اليمن.
28. لزيارة محمية الغابة المتحجرة، عليك التوجه إلى محافظة القاهرة.
29. معبد إيزيس من آثار النوبة الواقعة في جزيرة فيلة.
30. تم إنقاذ معبد أبو سمبل من الغرق بعد بناء السد العالي.
31. تقع منطقة أبو ميناء في الإسكندرية بجوار مدينة برج العرب.
32. أمر الملك خفرع بنحت تمثال ابو الهول.



33. اختارت اليونسكو أفضل مدينة سلام في العالم وهي مدينة شرم الشيخ
34. بني مسجد عمرو بن العاص في عهد الخليفة عمر بن الخطاب
35. تم تصميم برج القاهرة على شكل زهرة اللوتس
36. يقع مجمع الأديان في حي مصر القديمة
37. زيارتك لشارع المعز تعد سياحة ثقافية
38. يتجه السياح للعلاج بالرمال الساخنة في واحة سيوة
39. تجد العديد من الكتب والمؤلفات النادرة في مكتبة الاسكندرية
4. تطل مدينة مرسى مطروح على شواطئ البحر المتوسط
41. حضور مؤتمر النقل الذكي للشرق الأوسط وأفريقيا يعد أحد أنواع سياحة المؤتمرات والمهرجانات
42. استضافت مصر مؤتمر المناخ (COP27) في مدينة شرم الشيخ
43. تنتشر في مدينة الغردقة على البحر الأحمر السياحة الترفيهية
44. تعد مكتبة الإسكندرية من أماكن السياحة الثقافية
45. يقع سور مجرى العيون في محافظة القاهرة
46. قامت الدولة بتطوير مسار العائلة المقدسة في حي المطرية
47. يقع متحف هيئة السكك الحديدية في محافظة القاهرة
48. أرسلت الملكة حتشبسوت رحلات تجارية إلى بلاد بونت
49. عرفت مصر قديما العربات الحربية بعد تعرضها لغزو الهكسوس
5. أنشئ أول خط سكة حديد في مصر ليربط بين القاهرة و الاسكندرية
51. شركة مصر للطيران إحدى شركات بنك مصر
52. شاركت مصر في مؤتمر النقل المستدام الذي عقد بالعاصمة الصينية بكين
53. يقع ميناء دمياط على البحر المتوسط
54. يقع مطار برج العرب في محافظة الإسكندرية
55. يربط القطار الكهربائي السريع بين العين السخنة والعلمين الجديدة مرورا بالعاصمة الإدارية الجديدة
56. الدائرة الصفراء في إشارة المرور هي من علامات المرور الضوئية
57. أشهر المراكب في مصر قديما يعود للملك خوفو
58. السكك الحديدية والطرق المرصوفة من أنواع النقل البري
59. الشاحنات من وسائل النقل المستخدمة لنقل البضائع
6. تخطي المرتفعات والبحار من مميزات النقل الجوي
61. أول سيارة دخلت مصر كانت تعمل بطاقة البخار
62. أول من حاول الطيران باستخدام جناحين هو عباس بن فرناس
63. يربط مترو الأنفاق بين شبرا الخيمة والقاهرة و الجيزة
64. التزام السائق في مساره المحدد من قواعد قيادة السيارات
65. تعد العلامة المقابلة من علامات المرور الالزامية
66. أرخص وسائل النقل هو النقل المائي



٦٧. أحد آداب استخدام وسائل النقل إفساح الطريق للسيارة الاسعاف  
٦٨. بدأت العصور التاريخية عندما عرف المصري القديم الكتابة

## السؤال الثالث أكتب كلمة (صواب) أو (خطأ)

١. وزارة التخطيط هي الجهة المسؤولة عن إجراء التعداد السكاني كل ١٠ سنوات. **خطأ**  
٢. يختلف توزيع السكان بين محافظات مصر **صواب**  
٣. سكان الريف يمثلون غالبية السكان في مصر. **صواب**  
٤. كثرة الإنجاب والزواج المبكر من المشكلات التي تنتشر بين سكان الريف. **صواب**  
٥. الحرفة الرئيسية لسكان الصحاري هي الزراعة. **خطأ**  
٦. بدأت مصر في عمل أول تعداد لسكانها في العصر الحديث. **خطأ**  
٧. أنشأت منظمة اليونسف متحف النوبة في أسوان لعرض تاريخ الحضارة النوبية. **خطأ**  
٨. تشتهر مدن القناة بإقامة المهرجانات، منها مهرجان الإسماعيلية الدولي للفنون الشعبية **صواب**  
٩. أنشأت الدولة متحف السيرة الهلالية في أسوان للحفاظ على هذا التراث. **خطأ**  
١. عندما تريد تعلم اللغة النوبية فعليك بالذهاب إلى جنوب مصر. **صواب**  
١١. ينتشر فن التحطيب بين سكان محافظات الدلتا. **خطأ**  
١٢. يستمتع الزائر في محافظات الصعيد بالعزف على الربابة. **صواب**  
١٣. مصر هي الدولة الوحيدة في العالم التي تعاني من مشكلات البطالة والفقر. **خطأ**  
١٤. الأمية الهجائية هي عدم قدرة الفرد على استخدام التكنولوجيا للوصول للمعلومات **خطأ**  
١٥. تؤثر الأمية على خطط التنمية المستدامة في الدولة. **صواب**  
١٦. ترتفع معدلات الأمية بين الإناث عن الذكور. **صواب**  
١٧. يتولى المحافظ منصبه عن طريق التصويت له في انتخابات عامة. **خطأ**  
١٨. تقوم السلطة القضائية في مصر بمهمة من القوانين. **خطأ**  
١٩. مجلس الشيوخ هو المسئول عن سن التشريعات والقوانين **خطأ**  
٢. حاكم الإقليم قديما هو المسئول عن عقد المعاهدات بين مصر وجيرانها. **خطأ**  
٢١. تساهم منظمة اليونسف في الحفاظ على مواقع التراث العالمي. **خطأ**  
٢٢. تضم محمية رأس محمد مجموعة من الأشجار المتحجرة على شكل قطع صخرية أسطوانية **خطأ**  
٢٣. يعد الجهاز المركزي للتعبئة العامة والإحصاء هيئة تابعة لرئاسة الجمهورية مباشرة **صواب**  
٢٤. تم بناء قلعة صلاح الدين الأيوبي في طابا لتكون مقرا للحكم. **خطأ**  
٢٥. تعد عادات وتقاليد الشعوب أحد أمثلة التراث الطبيعي. **خطأ**  
٢٦. منطقة وادي الحيتان أحد نماذج التراث الطبيعي في مصر. **صواب**  
٢٧. تقع قلعة صلاح الدين الأيوبي بطابا في جزيرة تيران **خطأ**  
٢٨. تساعد السياحة على زيادة الدخل القومي. **صواب**  
٢٩. يقع دير سانت كاترين في محافظة الأقصر. **خطأ**



3. تضم منطقة وادي الحيتان هياكل وعظام وحفريات أسماك عاشت من ملايين السنين.
- 3 1. يرجع تاريخ منطقة أبو ميناء بالإسكندرية إلى الحضارة المصرية القديمة.
- 3 2. يمكن إدراج بعض المواقع التي تمثل نموذجاً للإبداع البشري على قائمة التراث العالمي.
- 3 3. يُعد معبد إيزيس من مناطق التراث الطبيعي.
- 3 4. يمكننا رؤية الصقور والثعالب والغزلان في وادي الحيتان.
- 3 5. اكتفت اليونسكو بتسجيل موقع واحد في مصر على قائمة التراث العالمي.
- 3 6. بنى المصريون القدماء الأهرامات شرق نهر النيل لتكون بعيدة عن الفيضان.
- 3 7. شيدت الكنيسة المعلقة على الأبراج الجنوبية لحصن بابلون.
- 3 8. بنى المصريون القدماء الأهرامات لاعتقادهم في البعث والخلود.
- 3 9. يُعد المعبد اليهودي من المناطق الأثرية في منطقة مجمع الأديان.
4. ثم نحت تمثال أبو الهول بجسم أسد ورأس إنسان.
- 4 1. تعمل مصر على تنمية السياحة من خلال تطوير وسائل النقل والمواصلات.
- 4 2. زيارتك لمعبد إيزيس تعد سياحة علاجية.
- 4 3. عند زيارتك الشارع المعز، فأنت تقوم بسياحة مؤتمرات.
- 4 4. رحلات السفاري في الصحاري المصرية أحد أمثلة السياحة الترفيهية.
- 4 5. يجب اتباع قواعد النظافة والأمن عند زيارة المناطق الأثرية.
- 4 6. زيارتك لمكتبة الإسكندرية تعد سياحة ثقافية.
- 4 7. يشمل مشروع تطوير مدينة القاهرة التاريخية ترميم منطقة «أبو ميناء».
- 4 8. يُعد تطوير سور مجرى العيون أحد جهود الدولة للحفاظ على المواقع الأثرية.
- 4 9. يمكن كتابة اسمك على جدار معبد الكرنك لتخليد ذكرى زيارتك.
5. يهدف تطوير منطقة الأهرامات إلى تحويلها لمتحف مفتوح.
- 5 1. استخدم المصريون القدماء الحصان والحصار في التنقل وحمل الأشياء.
- 5 2. استخدم المصري القديم العربات الحربية في السفر والصيد.
- 5 3. أول سيارة دخلت مصر كانت في عهد الخديو توفيق.
- 5 4. تعد السكك الحديدية المصرية الأولى في الشرق الأوسط والعالم.
- 5 5. حاول عباس بن فرناس محاكاة حركة الطيور.
- 5 6. نجح الأخوان رايت في الطيران الحقيقي عام ١٩٠٣ م.
- 5 7. شركة مصر للطيران هي أول شركة طيران على مستوى الشرق الأوسط.
- 5 8. يساهم العلم في تطوير وسائل النقل المختلفة.
- 5 9. تهتم الدولة بتطوير وتحسين كل أنواع وسائل النقل.
6. النقل البري هو أرخص أنواع النقل.
- 6 1. الأتوبيسات النهرية من أهم وسائل النقل البري.
- 6 2. تحتفل باليوم العالمي للمرور في الرابع من شهر مايو.
- 6 3. يجب أن يلتزم سائق السيارة بالسرعة المحددة على الطريق.
- 6 4. يجوز استخدام الهاتف المحمول في أثناء قيادة السيارة.



صواب

خطأ

خطأ

صواب

صواب

خطأ

خطأ

صواب

صواب

خطأ

صواب

صواب

صواب

صواب

صواب

65. يجب الامتناع عن تناول الطعام أو الشراب في أثناء قيادة السيارة.
66. علامة الاتجاه الإجباري للمشاة هي علامة مرور تحذيرية.
67. يجب أن يجلس الأطفال في المقاعد الأمامية للسيارة.
68. إلقاء الحجارة على القطارات في أثناء سيرها يسبب أضراراً للقطار والركاب.
69. أرسل الملك سنfro رحلات تجارية إلى بلاد فينيقيا.
7. تعد السفن أول وسيلة نقل مالي عرفها المصري القديم.
71. نقل مركب الملك خوفو إلى المتحف القومي للحضارة المصرية للحفاظ على قيمته الأثرية.
72. تعد مصر أولى الدول العربية في إنشاء مترو الأنفاق.
73. إنشاء المزيد من الكباري يخفف الضغط المروري على الطرق.
74. يُفضّل استخدام النقل الجوي إذا كانت البضائع كبيرة الحجم وثقيلة الوزن.
75. تهتم الدولة بالنقل المستدام لتوفير استخدام الوقود.
76. تهدف الدولة من مشروع الموتوريل المعلق ربط المدن المصرية بمترو الأنفاق.
77. يجب الانتباه إلى المخاطر المحتملة عند رؤية العلامات التحذيرية.
78. عدم التأكد من صحة المعلومات يعد من سلبيات الإنترنت.
79. ساهمت شبكة الإنترنت في توفير المعلومات وفرص العمل المناسبة.

## السؤال الرابع: أختار الإجابة الصحيحة مما يلي

1. تتزايد أعداد السكان باستمرار بسبب ارتفاع عدد.....
  - أ. الوفيات
  - ب. المواليد
  - ج. المهاجرين
  - د. المتعلمين
2. إذا أردت زيارة محافظة حضرية، فعليك التوجه إلى.....
  - أ. المنيا
  - ب. مطروح
  - ج. قنا
  - د. الإسكندرية
3. لحضور عيد السياحة في واحة سيوة عليك أن تتواجد هناك في منتصف.....
  - أ. أغسطس
  - ب. سبتمبر
  - ج. أكتوبر
  - د. نوفمبر
4. أثرت اللغة الأمازيغية في لهجة سكان.....
  - أ. سيوة
  - ب. السويس
  - ج. بورسعيد
  - د. قنا
5. اليوم العالمي للنوبة أشهر المناسبات في محافظة.....
  - أ. الأقصر
  - ب. أسوان
  - ج. سوهاج
  - د. المنيا



٦. أنشأت الدولة في محافظة قنا متحفا للحفاظ على.....

- أ. آلة السمسرية      ب. رقصة البمبوتية      ج. السيرة الهلالية      د. اللغة النوبية

٧. تشابه سكان الصعيد في فن التحطيب مع الحضارة.....

- أ. الفارسية      ب. الرومانية      ج. المصرية القديمة      د. العراقية القديمة

٨. أي من المحافظات التالية تشتهر بعيد السياحة؟.....

- أ. الوادي الجديد      ب. جنوب سيناء      ج. مطروح      د. القاهرة

٩. إذا أردت الاستماع إلى لغة تميل إلى اللغة العربية الفصحى، فتحدث مع أهل.....

- أ. الوادي      ب. الدلتا      ج. سيناء      د. سيوة

١٠. سباق الهجن هي رياضة تراثية يتم فيها التسابق ب.....

- أ. الخيول      ب. الإبل      ج. الحمير      د. البقر

١١. مواطن يجهل استخدام الإنترنت، إذا فهو يعاني من الأمية.....

- أ. الهجائية      ب. المعلوماتية      ج. الاقتصادية      د. السياسية

١٢. ثالث المحافظات المصرية من حيث انخفاض نسبة الأمية هي.....

- أ. البحر الأحمر      ب. بورسعيد      ج. الوادي الجديد      د. المنيا

١٣. اخترع المصريون القدماء الكتابة على شكل صور ورسوم عُرفت بالكتابة.....

- أ. الهيروغليفية      ب. الهيروغليفية      ج. الديموطيقية      د. القبطية

١٤. يعاون المحافظ في إدارة شئون محافظته.....

- أ. مجلس النواب      ب. مجلس الشيوخ      ج. المجلس المحلي      د. المجلس العرفي

١٥. السلطة القضائية تتمثل في.....

- أ. المحاكم      ب. رئيس الجمهورية      ج. الحكومة      د. مجلس النواب

١٦. إذا أردت زيارة إحدى مناطق التراث الثقافي في طابا، فإنك تتجه لزيارة.....

- أ. محمية رأس محمد      ب. قلعة قايتباي      ج. الأهرامات      د. قلعة صلاح الدين

١٧. محمية الغابة المتحجرة أحد معالم التراث الطبيعي لمحافظة.....

- أ. جنوب سيناء      ب. القاهرة      ج. الفيوم      د. الوادي الجديد



١٨. الغرض من بناء قلعة صلاح الدين في طابا هو تأمين .....

- أ. البحر المتوسط      ب. نهر النيل      ج. بحيرة ناصر      د. البحر الأحمر

١٩. أي مما يلي يُعد أحد أمثلة التراث الثقافي في مصر ؟ .....

- أ. المحميات الطبيعية      ب. نهر النيل      ج. أهرامات الجيزة      د. واحة سيوة

٢٠. يقع دير سانت كاترين عند سفح جبل .....

- أ. علبة      ب. العوينات      ج. سيناء      د. حماطة

٢١. أي من المناطق الأثرية التالية تعد ضمن قائمة التراث العالمي لليونسكو ؟ .....

- أ. صان الحجر      ب. تل بسطة      ج. معبد أبو سمبل      د. تل العمارنة

٢٢. تقع منطقة وادي الحيتان في محافظة .....

- أ. الإسكندرية      ب. المنيا      ج. الفيوم      د. السويس

٢٣. تتعرض منطقة أبو مينا لخطر .....

- أ. ذوبان الجليد      ب. ارتفاع الحرارة      ج. زراعة الأراضي      د. تآكل التربة

٢٤. أنقذت اليونسكو آثار النوبة من الغرق بعد بناء .....

- أ. قناطر أسيوط      ب. القناطر الخيرية      ج. السد العالي      د. قناطر إسنا

٢٥. أحد أقدم الأديرة في مصر، وتم إدراجه على قائمة التراث العالمي هو دير .....

- أ. سانت كاترين      ب. أبو مينا      ج. الأنبا بيشوي      د. أبو مقار

٢٦. تم بناء برج القاهرة على شكل .....

- أ. ورق البردي      ب. زهرة اللوتس      ج. زهرة الياسمين      د. أوراق النخيل

٢٧. أحد المواقع التي تقوم الدولة بتطويرها في مدينة القاهرة التاريخية .....

- أ. منطقة درب الأحمر      ب. معبد أبو سمبل الكبير

- ج. دير سانت كاترين      د. محمية وادي الحيتان

٢٨. منطقة تسعى الدولة لتحويلها إلى متحف مفتوح هي .....

- أ. الدلتا      ب. الأهرامات      ج. بولاق      د. إمبابة

٢٩. تم مد أول خط سكة حديد في مصر بين القاهرة و .....

- أ. السويس      ب. الجيزة      ج. الإسكندرية      د. المنيا



٣. استخدم المصري القديم السفن في.....

- ا. اكتشاف قارات العالم الجديد  
ج. اكتشاف أعماق البحار الواسعة  
ب. نقل الركاب  
د. استخراج البترول

٣١. إحدى وسائل النقل البحري التي عرفت في العصر الحديث.....

- ا. القوارب ب. السفن ج. البواخر د. المراكب

٣٢. تطوير الطريق الدائري دليل على جهود الدولة في تطوير النقل.....

- ا. النهري ب. البحري ج. الجوي د. البري

٣٣. أي من المواني التالية يقع على البحر الأحمر ؟ .....

- ا. الإسكندرية ب. سفاجا ج. العريش د. دمياط

٣٤. تصنف علامة المرور المقابلة على أنها من علامات المرور.....

- ا. الإرشادية ب. التحذيرية ج. الإلزامية د. الضوئية



٣٥. الخط الأصفر المتصل على الطريق يمثل علامة مرور.....

- ا. أرضية ب. إرشادية ج. إلزامية د. ضوئية

٣٦. استخدم الإنسان للتواصل في عصور ما قبل التاريخ.....

- ا. الحمام الزاجل ب. ورق البردي ج. قرع الطبول د. الطوابع البريدية

٣٧. بدأ استخدام العربات الحربية في مصر قديما بعد غزو.....

- ا. الهكسوس ب. اليونانيين ج. الرومان د. الفرس

٣٨. تستخدم وسائل النقل المستدام طاقة.....

- ا. السولار ب. الفحم ج. الكهرباء د. البنزين

٣٩. عند التخطيط لنزهة نيلية أنت وأسررتك فتصح باستخدام.....

- ا. دراجة بخارية ب. سيارة ج. غواصة د. أتوبيس نهري

٤. يجب عليك عند عبور الطريق الالتزام ب.....

- ا. استخدام كوبري المشاة ب. ترك المقاعد لكبار السن  
ج. السير وسط الطريق د. استخدام آلة التنبيه



## صوب ماتحته خط

## السؤال الخامس

١. يزيد عدد سكان بعض المحافظات عن 8 ملايين نسمة، ومنها القاهرة والفيوم (الجيزة)
٢. يعمل بالصناعة والسياحة والتجارة سكان الريف. (الحضر)
٣. عد الأفراد وتقدير متوسط عدد الأسر عند المصريين القدماء تم في عهد رمسيس الثاني. (أمنحتب الثالث)
٤. يتحدث أهل سيوة بلهجة مشتقة من اللغة الفارسية. (الامازيغية)
٥. تريد الذهاب لمتحف السيرة الهلالية لذا عليك زيارة محافظة أسيوط. (قنا)
٦. سجل المصريون القدماء صورًا للتخطيط على حائط معبد الأقصر. (الكرنك)
٧. تأتي في المركز الثاني بين المحافظات الأقل أمية محافظة بنى سويف. (بورسعيد)
٨. انتشار الجهل والخرافات أحد نتائج مشكلة البطالة. (الأمية)
٩. تسعى الدولة للقضاء على الأمية الهجائية من خلال التوسع في إنشاء المستشفيات (المدارس)
١٠. يتولى رئيس الجمهورية منصبه عن طريق التعيين. (الانتخابات)
١١. إصدار القرارات وفقا للقانون أحد مهام المحاكم. (الحكومة)
١٢. يُعد سور مجرى العيون أحد أماكن التراث الثقافي لمحافظة الفيوم (القاهرة)
١٣. تعد المحميات الطبيعية إحدى مناطق التراث الثقافي. (الطبيعي)
١٤. إحدى أبرز المدن التراثية في العالم مدينة شرم الشيخ. (القاهرة التاريخية)
١٥. يقع تمثال أبو الهول في محافظة المنيا. (الجيزة)
١٦. يعد حصن بابلليون أحد الآثار القبطية. (الرومانية)
١٧. نقل البضائع سريعة التلف أفضل من خلال النقل النهرى. (الجوي)
١٨. تشير الصورة المقابلة العلامة مرور أرضية. (ضوائية)
١٩. علامة المرور التي تعني ممنوع الانتظار هي علامة مرور التحذير. (المنع)
٢٠. أول خط هاتفى في مصر ربط بين القاهرة وأسوان. (الاسكندرية)
٢١. أول محاولة للطيران قام بها الأخوان رايت (عباس بن فرناس)
٢٢. يستمتع الركاب بالنزهات النيلية من خلال النقل البحري. (النهرى)
٢٣. أنشأت الدولة مطار برج العرب في السويس. (الاسكندرية)
٢٤. المقاعد الأمامية في السيارات غير مخصصة لجلوس الأمهات. (الاطفال)





لاحظ الصور المقابلة، ثم أجب:

٣. يشير رقم (١) إلى آلة الربابة

يشتهر بعزفها سكان الصعيد

٤. يشير رقم (٢) إلى آلة السلمسية

إذا أردت الاستمتاع بعزفها فيمكنك زيارة مدن القناة

على أي البحار توجد الموانئ التالية؟

- ميناء سفاجا البحر الاحمر
- ميناء الغردقة البحر الاحمر
- ميناء الإسكندرية البحر المتوسط
- ميناء دمياط البحر المتوسط

صنف وسائل الاتصال التالية حسب العصر الذي تنتمي إليه على الخط الزمني:

عصور ما قبل التاريخ	العصور التاريخية	القرن ١٩ و ٢٠
<ul style="list-style-type: none"> <li>• الأصوات العالية</li> <li>• قرع الطبول</li> <li>• الدخان</li> </ul>	<ul style="list-style-type: none"> <li>• الحمام الزاجل</li> <li>• أشخاص يحملون رسائل</li> <li>• البريد</li> </ul>	<ul style="list-style-type: none"> <li>• الهاتف</li> <li>• التلغراف</li> <li>• شبكة الإنترنت</li> </ul>

وسائل النقل التالية حسب النوع الذي تنتمي إليه:

نقل بري	نقل مائي	نقل جوي
<ul style="list-style-type: none"> <li>• المونوريل</li> <li>• قطار</li> <li>• سيارة خاصة</li> <li>• أتوبيسات</li> </ul>	<ul style="list-style-type: none"> <li>• باخرة</li> <li>• الأتوبيس النهري</li> <li>• المراكب</li> </ul>	<ul style="list-style-type: none"> <li>• طائرة هليكوبتر</li> </ul>



## السؤال السادس أكتب ماتنتير عليه العبارات التالية

التعداد السكاني	عملية حصر شامل للسكان كل عشر سنوات لتحديد الخدمات التي يحتاجها السكان في الحاضر والمستقبل.
الساعة السكانية	شاشة موجودة أعلى مبنى الجهاز المركزي للتعبئة العامة والإحصاء تظهر تقديرات لعدد سكان مصر.
سكان الحضر	الذين يسكنون المدن ويعملون بالصناعة والتجارة والسياحة والخدمات.
سكان الريف	الذين يسكنون القرى ويعملون بالزراعة وتربية الحيوانات.
البدو	الذين يعيشون في الصحارى المصرية ويمارسون حرفة الرعي.
التراث الثقافي	كل ما تركه لنا الأجداد من أماكن تاريخية وأثرية وفنون شعبية وصناعات حرفية وقيم وتقاليد اجتماعية.
سباق الهجن (الإبل)	رياضة تراثية شهيرة في شبه جزيرة سيناء. الأمية الهجائية عدم قدرة الفرد على القراءة أو الكتابة.
الأمية المعلوماتية (التكنولوجية)	عدم قدرة الفرد على تشغيل الأجهزة التكنولوجية والتواصل من خلالها أو الوصول إلى المعلومات.
اليوم الدولي لمحو الأمية	يوم خصصته اليونسكو بهدف تنمية الوعي الدولي بأهمية محو الأمية يوافق الثامن من سبتمبر من كل عام.
السلطة التنفيذية	يُمثلها رئيس الجمهورية والحكومة المصرية والمحافظون.
السلطة التشريعية	يمثلها مجلس النواب ومجلس الشيوخ.
السلطة القضائية	سلطة مستقلة تتولاها المحاكم المختلفة.
مجلس النواب	مجلس يتكون أعضاؤه من فئات المجتمع المصري، وهو المسئول عن سن القوانين في الدولة
مجلس الشيوخ	مجلس يؤخذ برأيه في معاهدات الصلح وتعديل مواد الدستور.
التراث الطبيعي	المواقع الطبيعية الجميلة ذات القيمة العالمية، والتي لم يتدخل الإنسان في صناعتها أو التأثير فيها.
البعث	العودة إلى الحياة مرة أخرى بعد الموت.
الخلود	عيش حياة أبدية لا موت بعدها.
السياحة الثقافية	تتمثل في زيارة الأماكن التاريخية والثقافية.



السياحة الترفيهية	تتمثل في زيارة الأماكن الطبيعية الخلابة.
السياحة العلاجية	تتمثل في زيارة مناطق العيون الكبريتية والرمال الساخنة للعلاج والاستجمام.
سياحة المؤتمرات والمهرجانات	تتمثل في زيارة السياح لمصر لحضور المؤتمرات أو المعارض أو المهرجانات
السياحة المستدامة	تهدف إلى الحفاظ على البيئة والموارد الطبيعية.
الدخل القومي	الدخل الذي تحققه الأنشطة الاقتصادية في عام واحد.
النقل المائي	ينقسم إلى النقل النهري والنقل البحري، ويُستخدم لنقل البضائع كبيرة الحجم وثقيلة الوزن.
النقل البري	يشمل السكك الحديدية ووسائل النقل التي تسير على الطرق المرصوفة.
النقل الجوي	نقل سريع يتم باستخدام الطائرات، يُستخدم في نقل الركاب والبضائع سريعة التلف.
النقل المستدام	استخدام وسائل نقل صديقة للبيئة تسير باستخدام مصادر طاقة نظيفة مثل الكهرباء والطاقة الشمسية.
علامات إرشادية	علامات توضح معالم الطريق للسائق.
علامات أرضية	خطوط مرسومة على الأرض توضح مسار تحرك السيارة على الطريق.
علامات الزامية	تشير إلى الاتجاه الإلزامي الذي يجب أن تسير فيه السيارات أو المشاة.
علامات ضوئية	تنقسم إلى علامات دائرية لتنظيم حركة مرور السيارات، وعلامات على شكل إنسان لتنظيم عبور المشاة.
علامات تحذيرية	علامات تحذر من المخاطر المحتملة.
علامات المنع	تشير إلى السلوكيات التي يجب تجنبها في أثناء القيادة.
عصور ما قبل التاريخ	عصور ما قبل معرفة المصري القديم للكتابة.
العصور التاريخية	العصور التي بدأت بمعرفة المصري القديم للكتابة.

## أذكر عملاً تاريخياً لكل من

## السؤال السابع

أمنحتب الثالث

تم في عهده عد الأفراد وتقدير متوسط عدد الأسر وصغار السن، والجنود والضباط المؤهلين للخدمة العسكرية في مصر قديماً.

الملك سنفرو

أرسل رحلات تجارية لبلاد فينيقيا لجلب أخشاب الأرز.



صاحب الهرم الأكبر الموجود في محافظة الجيزة - صاحب أشهر المراكب في  
القديمة، نشطت التجارة في عهده - أرسل بعثات إلى سيناء لإحضار الفيروز والنحاس.  
أرسلت رحلات تجارية إلى بلاد بونت لجلب الأخشاب والبخور والعاج وغيرها.

الملك خوفو

الملكة حتشبسوت

في عهده دخلت السيارات مصر، وكانت تعمل بالبخار.

الخديو توفيق

حاول الطيران باستخدام جناحين للطيران محاكاة لحركة الطيور.

عباس بن فرناس

اختر عا أول طائرة نجحت في الطيران الحقيقي.

الأخوان رايت

## مع تفسر

## السؤال الثامن

1. أهمية إجراء التعداد السكاني

لتحديد الخدمات التي يحتاجها السكان في الحاضر والمستقبل.

2. تزايد أعداد السكان باستمرار

بسبب ارتفاع عدد المواليد.

3. محافظة جنوب سيناء أقل محافظات مصر

سكانا بسبب صعوبة مظاهر سطحها وندرة موارد المياه بها.

4. تعد القاهرة أعلى محافظات الجمهورية سكانا

لأنها عاصمة البلاد.

5. انخفاض نسبة الأمية بين سكان الحضر.

بسبب انتشار المدارس - ارتفاع مستوى المعيشة.

6. ظهور العشوائيات في المحافظات الحضرية.

بسبب هجرة سكان الريف إلى المدن.

7. متوسط عدد أفراد الأسرة في الريف أعلى من الحضر.

بسبب الزواج المبكر - كثرة الإنجاب.

8. انخفاض مستوى المعيشة لسكان الريف

بسبب قلة الخدمات - نقص فرص العمل.

9. الاحتفال بعيد السياحة في واحة سيوة

لأنه يوافق موسم حصاد التمور والزيتون، وهما المورد الرئيسي لاقتصاد الواحة.



## 1. يعتبر التراث النوبي جزءاً من الحضارة المصرية

لأنه امتداد للحضارة المصرية القديمة، فقد تتناقل سكان النوبة اللغة النوبية عبر الأجيال.

### 1.1 كان للغة النوبية دور مهم في حرب أكتوبر ١٩٧٣ م.

حيث استخدمها الجيش كشفرة للتواصل بين قياداته والفرق العسكرية المصرية في سيناء.

### 1.2 أنشأت منظمة اليونسكو متحف النوبة في أسوان

لعرض التاريخ والحضارة النوبية العريقة.

### 1.3 أهمية متحف السيرة الهلالية

أنشأته الدولة في محافظة قنا للحفاظ على التراث المرتبط بالسيرة الهلالية.

### 1.4 أهمية سباقات الهجن

تسهم في تنشيط السياحة في شبه جزيرة سيناء.

### 1.5 انتشار الأمية في مصر

بسبب الزيادة السكانية - تسرب بعض الطلاب من المدارس.

### 1.6 أهمية منصب رئيس الجمهورية

الحفاظ على أمن الوطن - رعاية مصالح الشعب - تمثيل مصر محلياً ودولياً.

### 1.7 أهمية مجلس الشيوخ

يؤخذ رأيه في معاهدات الصلح ومشروعات القوانين ومقترحات تعديل الدستور.

### 1.8 أهمية الحكومة في نظام الحكم المصري

تقوم بمعاونة الرئيس في إدارة شئون الدولة - تشترك مع رئيس الجمهورية في وضع الخطة العامة للدولة والإشراف على تنفيذها - تصدر القرارات وفق القانون - تقوم بإعداد الموازنة العامة.

### 1.9 أهمية السلطة القضائية

تصدر الأحكام في ضوء القوانين ليسود العدل.

### 2. أهمية منصب المحافظ

يقوم بإدارة شئون المحافظة وحفظ الأمن والنظام بها - متابعة جودة المرافق والخدمات العامة كالتعليم والصحة والكهرباء والنظافة - توفير فرص العمل لأبناء المحافظة.

### 2.1 أهمية المجلس المحلي

يقوم بمعاونة المحافظ في إدارة شئون المحافظة.

### 2.2 تحتفل منظمة اليونسكو بيوم التراث العالمي

لتوعية كل دول وشعوب العالم بضرورة حماية التراث الطبيعي والثقافي.



### ٢٣. أهمية قلعة صلاح الدين بطابا

حماية الطرق البرية والبحرية بين مصر وجيرانها - تأمين خليج العقبة والبحر الأحمر من الأعداء.

### ٢٤. أهمية محمية الغابة المتحجرة

لأنها تحتوي على مجموعة من الأشجار المتحجرة على شكل قطع صخرية ذات مقاطع أسطوانية تتجمع مع بعضها على شكل غابة.

### ٢٥. أهمية إدراج المواقع الأثرية والسياحية على قائمة التراث العالمي لليونسكو

لأنها تزيد معرفة المواطنين بالتراث الثقافي والطبيعي في وطنهم وحمايته والمحافظة عليه - تحفيز دول العالم على اتخاذ الإجراءات اللازمة لحماية المواقع التراثية الثقافية والطبيعية وتطويرها . تدعيم السياحة إلى مناطق التراث العالمي التي حددتها اليونسكو في قائمتها - تعميق شعور المواطنين بالانتماء لمجتمعهم وتاريخهم.

### ٢٦. اختيار مدينة القاهرة التاريخية ضمن قائمة التراث العالمي لليونسكو

لأنها تتميز بتعدد الآثار والمباني التاريخية التي تعبر عن تاريخها الطويل بصفتها عاصمة سياسية وثقافية وتجارية ودينية عريقة.

### ٢٧. تصنف اليونسكو منطقة أبو ميناء منطقة مهددة بالخطر

لتعرضها لخطر تآكل التربة والمباني.

### ٢٨. تعد منطقة وادي الحيتان موقع تراث طبيعيا عالميا

لأنها تحتوي على هياكل عظمية لحيتان ضخمة وحفريات لأسماك أخرى كانت تعيش في تلك المنطقة قبل ٤٠ مليون سنة - يوجد فيها كائنات حية متنوعة كالصقور والثعالب والغزلان

### ٢٩. بنى المصريون القدماء الأهرامات على هضبة غرب النيل

لتكون بعيدة عن الفيضان.

### ٣. نحت تمثال أبو الهول على هيئة جسم أسد ورأس إنسان

ليكون رمزا للقوة، ولحماية الأهرامات مقابر الملوك من السرقة.

### ٣١. أهمية المتحف القومي للحضارة

يقدم نظرة شاملة على الحضارة المصرية عن طريق عرض قطع أثرية من عصور مختلفة.

### ٣٢. أهمية السياحة.

توفر فرص عمل للشباب - تسهم بنصيب في الدخل القومي - المصدر الأول للعملة الأجنبية.

### ٣٣. ضرورة تجنب استخدام ضوء الكاميرا (فلاش) بجانب الآثار

لتأثيره السلبي على بعض القطع الأثرية.

### ٣٤. مد السكك الحديدية عبر محافظات مصر

لنقل الركاب والبضائع.



### ٣٥. تطورت صناعة السيارات عبر الزمن

بسبب الثورة الصناعية التي نتج عنها اختراع الماكينات.

### ٣٦. شهرة مركب الملك خوفو

لأنه يُعد أقدم أثر مصنوع من الخشب في التاريخ الإنساني.

### ٣٧. أهمية وسائل النقل

توفير الوقت والجهد لانتقال الأفراد والسلع - المساعدة على التبادل التجاري والتواصل الحضاري بين الدول.

### ٣٨. أهمية مشروع مترو الأنفاق

يربط بين ثلاث مدن مصرية (القاهرة - الجيزة - شبرا الخيمة).

### ٣٩. اهتمام مصر بإنشاء الكباري والمحاور

لتخفيف الضغط المروري على الطرق.

### ٤٠. اهتمام الدولة المصرية بالنقل المستدام

لخفض معدلات تلوث الهواء - توفير استخدام الوقود.

### ٤١. إنشاء مشروع الموتوريل المعلق

لربط العديد من المدن المصرية ببعضها، بالإضافة لربطها بمترو الأنفاق.

### ٤٢. أهمية القطار الكهربائي السريع

لربط مدينة العين السخنة بمدينة العلمين الجديدة مروراً بالعاصمة الإدارية.

### ٤٣. أهمية الالتزام بقواعد المرور

للمحافظة على أرواح الناس، وتفاادي الحوادث.

### ٤٤. وضعت الدولة كاميرات على الطرق

لمعرفة مدى الالتزام بقواعد المرور، وحصر أماكن الكثافات المرورية والتعامل معها.

### ٤٥. استخدام الحمام الزاجل لإرسال الرسائل في العصور التاريخية.

لأنه أسرع من الأشخاص الذين يحملون الرسائل

## ما النتائج المترتبة علي

## السؤال التاسع

### ١. اهتمام منظمة اليونسكو بآثار النوبة

إنقاذ المنظمة لمعبد أبو سمبل ومعبد إيزيس من الغرق بمياه النيل بعد بناء السد العالي ونقلهم إلى موقعهم الحالي.

### ٢. اعتقاد المصريين القدماء في البعث والخلود

بناء الأهرامات لدفن الملوك وكل الأشياء التي سوف يحتاجون إليها بعد البعث في حجرة داخل الهرم



### 3. الثورة الصناعية بالنسبة لوسائل النقل

نتج عنها اختراع الماكينات، وتطور صناعة السيارات عبر الزمن.

### 4. قيام الدولة بتطوير الموانئ البحرية

تقليل زمن انتظار السفن خارج الميناء - زيادة كمية البضائع المتداولة - تنشيط حركة التجارة - زيادة مساحات التخزين داخل الميناء.

### 5. الالتزام باتباع العلامات المرورية

تنظيم حركة المرور وتجنب الازدحام - المحافظة على أرواح الناس وتقايد الحوادث.

### 6. إهدار كثير من الوقت على شبكات التواصل الاجتماعي

يؤثر سلبا على مستوى الطالب الدراسي، وإهمال ممارسة الهوايات المفيدة، والتباعد بين أفراد الأسرة.

### 7. إنشاء الدولة موقع بوابة مصر الرقمية

أدى إلى سهولة استخراج الأوراق الرسمية، مثل بطاقة الرقم القومي وجواز السفر.

### 8. النقل المائي أرخص أنواع النقل

يستخدم في نقل البضائع كبيرة الحجم وثقيلة الوزن.

## السؤال العاشر دال علي صحة العبارات التالية

### 1 3. تقوم منظمة اليونسكو بدور مهم في الحفاظ على التراث العالمي

تقدم المساعدة إلى الدول للحفاظ على الأماكن التراثية المهددة بالخطر - أنقذت معبد أبو سمبل ومعبد إيزيس من الغرق - تختار الأماكن الفريدة والمميزة لتكون ضمن قائمتها للتراث العالمي ساهمت في ترميم مدينة صنعاء القديمة - خصصت يوما عالميا للاحتفال بالتراث.

### 1 4. تعدد أنواع السياحة على أرض مصر

حيث يوجد بمصر السياحة الثقافية والسياحة الترفيهية والسياحة العلاجية وسياحة المؤتمرات والمهرجانات

### 1 5. تهتم مصر بسياحة المؤتمرات والمهرجانات

استضافة مصر للعديد من المؤتمرات العالمية، مثل مؤتمر النقل الذكي للشرق الأوسط وإفريقيا - ومهرجانات مثل مهرجان الموسيقى العربية.

### 1 6. تقوم مصر بجهود عديدة لتنمية السياحة

إنشاء وتطوير المنشآت السياحية، مثل القرى السياحية والفنادق - استخدام الأساليب التكنولوجية في التسويق السياحي - تطوير وسائل النقل والمواصلات - صيانة المناطق الأثرية وترميمها - دعم السياحة المستدامة.

### 1 7. تبذل مصر جهودا عديدة للحفاظ على المناطق الأثرية والسياحية



إصدار قوانين تجرم الاتجار بالآثار أو الاعتداء عليها - تنظيم عملية البحث والتنقيب عن الآثار والإشراف على ترميم الآثار بواسطة المتخصصين - تطوير المناطق الأثرية مثل مشروع تطوير مدينة القاهرة التاريخية.

## ٨.١. تطورت وسائل النقل المائي عند المصريين القدماء

صنعوا القوارب في البداية من مجموعة من جذوع الأشجار وربطوها بالأعشاب المتينة مثل (البردي)، وكان يتم تحريكها بالأقدام، ثم أضافوا بعد ذلك المقاعد، واستخدام قطع خشبية للتجديف، وانتقل استخدامها من القنوات والأنهار إلى البحار.

## ٨.١. تعددت محاولات الإنسان للتنقل عبر الجو

مرت فكرة التنقل عبر الجو بعدة مراحل، وهي:

(1) محاولة عباس بن فرناس الذي استخدم جناحين للطيران محاكاة للطيور.

(ب) نجح الأخوان رايت في الطيران الحقيقي عام ١٩٠٣م، وتطورت بعد ذلك أشكال الطائرات حتى وصلت لشكلها الحالي.

## ٨.٢. قامت الدولة بالعديد من الجهود لدعم النقل المستدام.

تحويل الكثير من السيارات للعمل بالغاز الطبيعي - زيادة عدد الأتوبيسات التي تسير بالكهرباء أو الغاز الطبيعي - تشجيع المواطنين على استخدام وسائل النقل الجماعي لتقليل استخدام السيارات الخاصة.

## ٨.٣. تنوع وسائل النقل في مصر

حيث يوجد وسائل للنقل البري مثل السيارات والشاحنات والقطارات، ووسائل للنقل المائي (البحري والنهري مثل السفن والمراكب والأتوبيسات النهرية)، ووسائل للنقل الجوي الطائرات.

## ٨.٤. مرت وسائل الاتصال بعدة مراحل خلال العصور التاريخية

تطورت وسائل الاتصال بين البشر، ومنها كتابة الرسائل على ورق البردي، وإرسالها مع أشخاص، ثم استخدام الحمام الزاجل لإرسال الرسائل أسرع، وعرف البريد كوسيلة للتواصل وصولاً إلى الاختراعات الحديثة في مجال الاتصالات.

## ٨.٥. لعب تطور وسائل الاتصال دوراً في تقليل البطالة.

حيث يمكن استخدام شبكة الإنترنت في البحث عن فرص عمل مناسبة، والعمل عن بعد في مجالات متعددة مثل التسويق الإلكتروني وغيرها.

## ٨.٦. توجد أضرار متنوعة لشبكة الإنترنت رغم فوائدها المتنوعة.

وجود معلومات غير صحيحة على شبكة الإنترنت لذلك يجب أن نتأكد من صحة المعلومات قبل نشرها - إهدار الكثير من الوقت على شبكات التواصل الاجتماعي، مما يؤثر على الدراسة، ويسبب التباعد الأسري - محاولة بعض الأشخاص الاستيلاء على حسابات غيرهم.



## السؤال الحادي عشر ما العلاقة بين

## 1. الفيضان وموقع بناء الأهرامات وأبو الهول

بنى المصريون القدماء الأهرامات الثلاثة على هضبة مرتفعة في محافظة الجيزة غرب نهر النيل لتكون بعيدة عن الفيضان.

## 2. السياحة والبطالة

توفر السياحة العديد من فرص العمل مما يُقلّل معدل البطالة في الدولة.

## 3. بنك مصر والنقل الجوي

أنشأ بنك مصر شركة مصر للطيران أول شركة طيران في الشرق الأوسط والسابعة على مستوى العالم.

## 4. شبكة الإنترنت والسياحة

أتاحت شبكة الإنترنت للناس الزيارات الافتراضية لبعض المواقع السياحية والأثرية حول العالم والتعرف عليها؛ مما يعمل على تنشيط السياحة.

برجاء متابعتنا علي الواتس والتجرام ليصلك كل جديد

لرابط : تجرام

<https://t.me/Elmutafaweq100>

واتس :

<https://whatsapp.com/channel/0029VaDM7MBGpLHHkDvRkF3K>

جروب الفيس

المتفوق في المناهج الجديدة